










1. Im  schwimmen 11 Fische. Tom bekommt 6 Fische dazu.
Wie viele Fische sind es nun?
R: _____ A: Nun sind es _____ .
2. Tante Lisa sammelt Tassen. Sie hat 18 Stück. Onkel Max schenkt ihr 2 Tassen dazu. Wie viele Tassen hat sie nun?
R: _____ A: Sie hat nun _____ .
3. Herr Popp ist Maler. Er hat 17 Bilder gemalt. 3 davon verkauft er.
Wie viele Bilder hat er nun?
R: _____ A: Er hat nun _____ .
4. Opa bastelt 19  . 7 davon hat er schon verschenkt.
Wie viele hat er noch?
R: _____ A: Opa hat noch _____ .

Zahlenreise 1. Lehrmaterialien © VERITAS-Verlag, Linz

Sachaufgaben

1. Ein Zug hat 12  . Es kommen noch 7  dazu.
Wie viele  hat er nun?
R: _____ A: Der Zug _____  .
2. Im Sack sind 16  . Anna isst 3. Wie viele  hat sie noch?
R: A: _____ Sie _____  .
3. Herr Huber muss 17 Hemden bügeln. 3 davon hat er schon gebügelt. Wie viele Hemden muss er noch bügeln?
R: A: _____ Er _____ .
4. Vati hat 18 Tage frei. 5 Tage sind schon vorbei.
Wie lange hat er noch frei?
R: A: _____ Er _____ .

Zahlenreise 1. Lehrmaterialien © VERITAS-Verlag, Linz